


4^η Δραστηριότητα

Μετάφραση ιστοσελίδας - Συγκοινωνίες

1. Ανοίξτε το φυλλομετρητή Mozilla Firefox και πηγαίστε στη διεύθυνση <http://www.vrr.de/de/index.html> (Οργανισμός Συγκοινωνιών Ρήνου-Ρουρ). Σε ποια γλώσσα είναι η ιστοσελίδα; Ανοίξτε μια **νέα καρτέλα**, πάτε στην κεντρική σελίδα της google και πατήστε **μετάφραση**. **Εισαγάγετε** με αντιγραφή-επικόλληση την ιστοσελίδα της πρώτης καρτέλας στο πλαίσιο της μετάφρασης, επιλέξτε τη γλώσσα **από Γερμανικά στα Ελληνικά** και κάντε κλικ στη **μετάφραση**. Τι παρατηρείτε; Συγκρίντε τις δύο καρτέλες.



Μετάφραση

[Μεταφρασμένη αναζήτηση](#)

[Translator Toolkit](#)

[Εργαλεία και πάροι](#)

Μεταφράστε κείμενα, ιστοσελίδες και έγγραφα

Εισαγάγετε κείμενο ή μια διεύθυνση URL ιστοσελίδας ή [μεταφορώστε ένα έγγραφο](#).

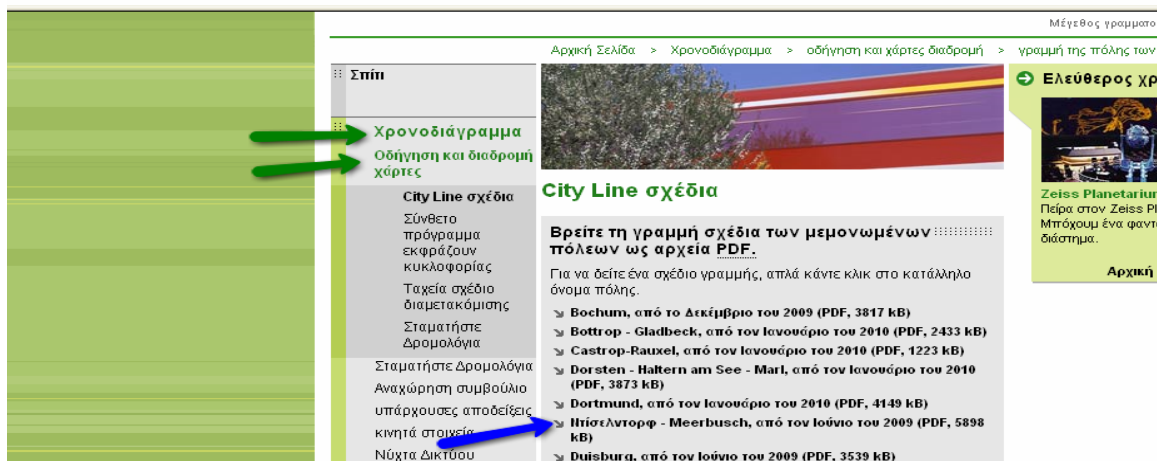
http://www.vrr.de/de/index.html

Μετάφραση από: Γερμανικά

Μετάφραση στα: Ελληνικά

Μετάφραση

2. Στην καρτέλα **Google Μετάφραση** κάντε κλικ στο **Χρονοδιάγραμμα – Οδήγηση και διαδρομή χάρτες – περισσότερο(στο City Line σχέδια)** και τέλος κλικ στις πόλεις **Ντίσελντορφ – Meerbusch** για να κατεβάσουμε το συγκοινωνιακό χάρτη των πόλεων σε μορφή αρχείου PDF.



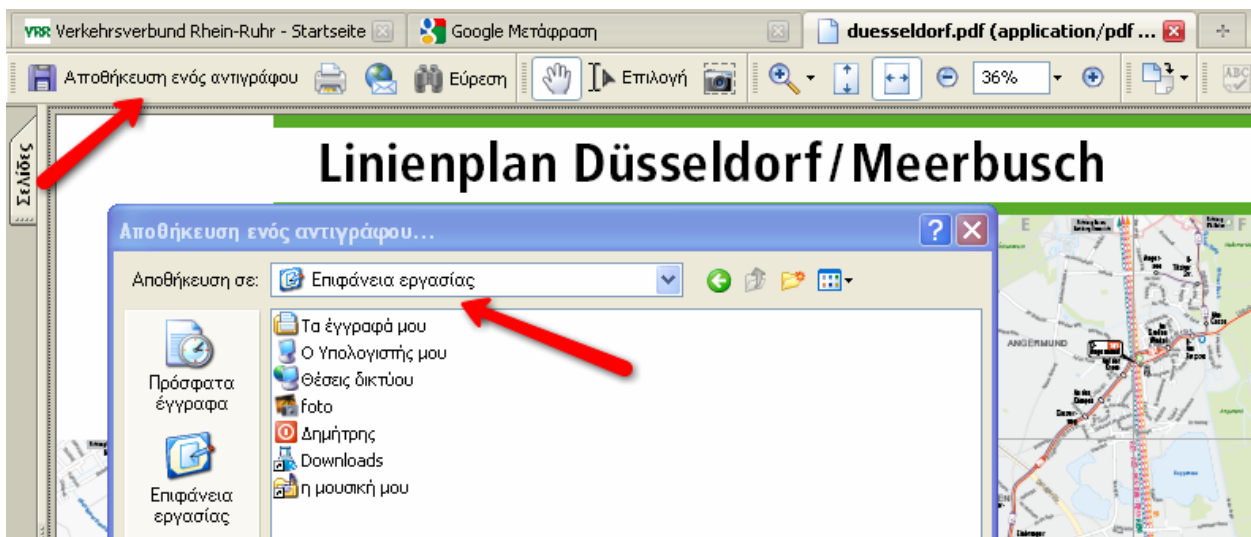
Επειδή η σελίδα μας είναι υπερβολικά μεγάλη για να μεταφραστεί(επίσης είναι αρχείο PDF), κάντε κλικ στο **Δείτε την πρωτότυπη σελίδα**.

Επιλέξτε από τα ακόλουθα:

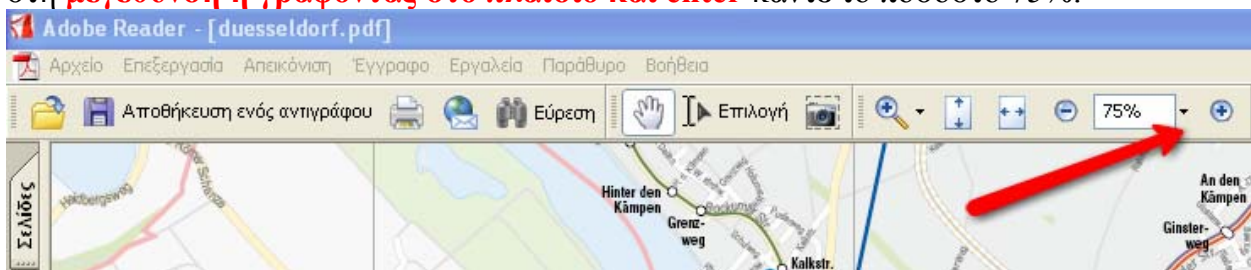
- [Επιστροφή στην προηγούμενη σελίδα](#)
- [Πίσω στη Μετάφραση Google](#)
- [Δείτε την πρωτότυπη σελίδα](#)

Προσπαθήστε να επαναλάβετε την ίδια διαδρομή από την **αρχική καρτέλα των γερμανικών** αυτή τη φορά.

3. Αφού κατέβηκε το αρχείο μας, **αποθηκεύστε ένα αντίγραφο στην επιφάνεια εργασίας** και κλείστε το φυλλομετρητή Mozilla Firefox.

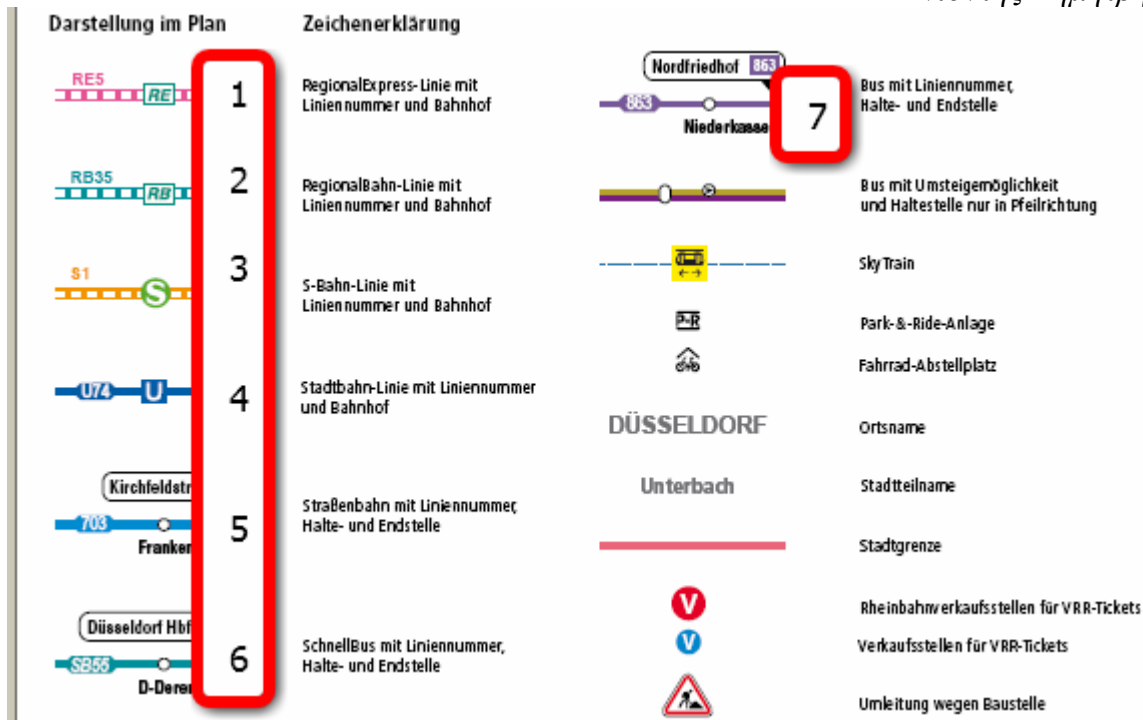


3. Ανοίξτε από την επιφάνεια εργασίας το αρχείο που αποθηκεύσατε και κάνοντας κλικ στη **μεγέθυνση ή γράφοντας στο πλαίσιο και enter** κάντε το ποσοστό 75%.

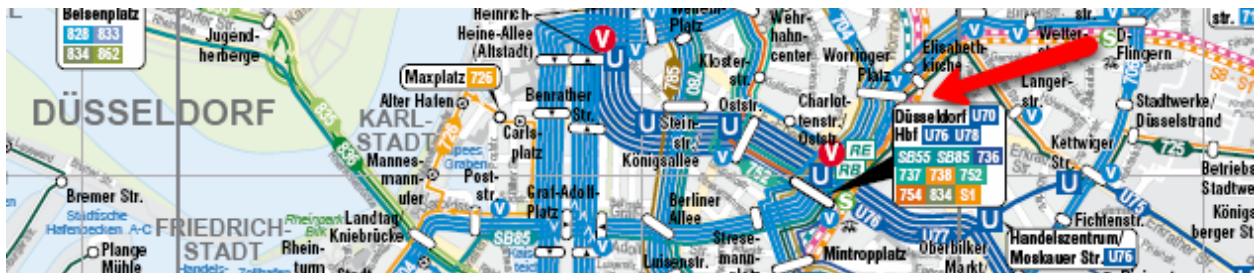


Πλοηγηθείτε στο συγκοινωνιακό χάρτη και πάτε στο κάτω μέρος και δεξιά όπου βρίσκεται το υπόμνημα. Δείτε προσεχτικά τα είδη των μεταφορικών μέσων που διαθέτει η γερμανική πόλη Düsseldorf(όσα δε γνωρίζετε μπορείτε να τα δείτε στην παρακάτω εικόνα). Τι μπορούμε να συμπεράνουμε για τις επιλογές μετακίνησης των κατοίκων της πόλης(600.000 κάτοικοι περίπου);

1. Γρήγορο περιφερειακό τρένο
2. Περιφερειακό τρένο
3. Τρένο συχνών στάσεων
4. Μετρό
5. Τραμ
6. Γρήγορο λεωφορείο
7. Λεωφορείο



4. Πηγαίνετε στο κέντρο του χάρτη όπου είναι το κέντρο της πόλης και ο **κεντρικός σταθμός τρένων(Hbf)** και παρατηρήστε το συγκοινωνιακό δίκτυο της πόλης. Τι παρατηρείτε;



5. Ανοίξτε και το αρχείο ιστοσελίδας(map) από την επιφάνεια εργασίας με το συγκοινωνιακό χάρτη της Θεσσαλονίκης και συγκρίντε τα συγκοινωνιακά δίκτυα; Τι συμπέρασμα βγάζουμε; Πιστεύετε πως ένα καλό συγκοινωνιακό δίκτυο(πυκνότητα δικτύου, συχνότητα γραμμών, είδη μεταφορικών μέσων) επηρεάζει το κυκλοφοριακό πρόβλημα μιας πόλης και πώς;