

Δραστηριότητα 1^η

Φύλλο Εργασίας 1 (Κοινό για όλες τις ομάδες)


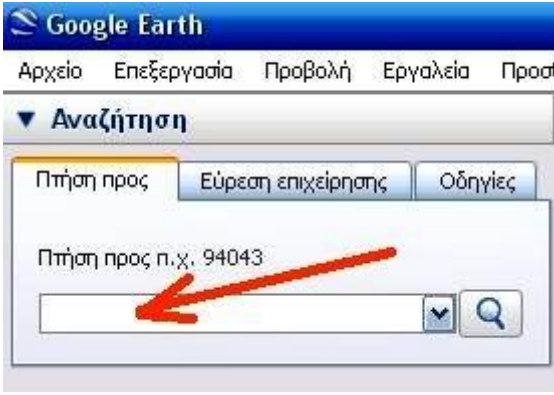
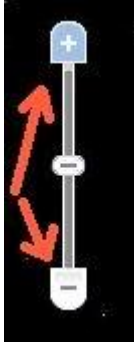
Μάθημα: “Η Βεργίνα και τα μνημεία της”

(Από την Ενότητα «Η Μακεδονία» και το κεφάλαιο «Η Μακεδονία, μια νέα ελληνική δύναμη» σελ. 95 ως 97 του βιβλίου μαθητή Ιστορία Δ΄ Δημοτικού)

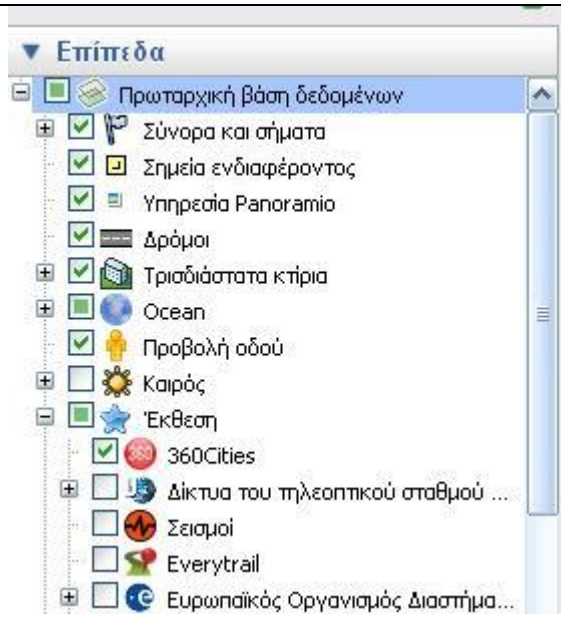
Λογισμικό που θα χρησιμοποιηθεί: Google Earth

Στη δραστηριότητα αυτή θα εντοπίσουμε τη γεωγραφική θέση της Βεργίνας στο χάρτη της Ελλάδας, θα προσδιορίσουμε τη χιλιομετρική απόσταση από την περιοχή που ζούμε, θα περιγράψουμε την οδική διαδρομή που θα ακολουθήσουμε για να φτάσουμε μέχρι εκεί με τη βοήθεια του λογισμικού **Google Earth**.

Οδηγίες:

<p>Από την επιφάνεια εργασίας του υπολογιστή σας κάνε διπλό κλικ στο εικονίδιο του Google Earth:</p>	
<p>Εντοπίστε στο παράθυρο του προγράμματος, πάνω δεξιά, την επιλογή «Αναζήτηση». Κάτω από τη φράση «Πτήση προς» πληκτρολογήστε στα ελληνικά τη λέξη «Βεργίνα». Θα μεταφερθείτε στην περιοχή της Βεργίνας.</p>	
<p>Με το ροδάκι του ποντικιού ή με το εργαλείο «zoom in/out» πλησιάστε, απομακρυνθείτε και ούτω καθεξής ώστε να έχετε αντίληψη του χώρου της Βεργίνας και της ευρύτερης περιοχής.</p>	

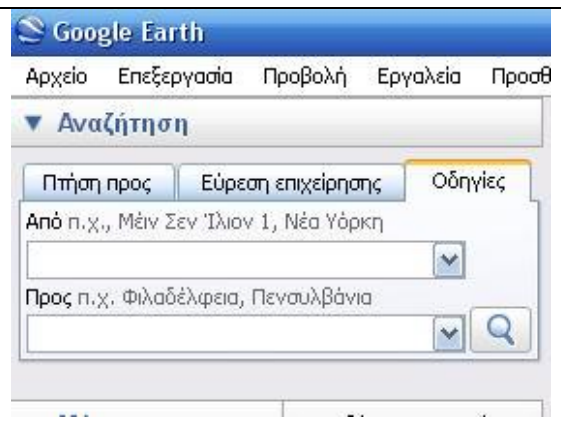
Στην αριστερή στήλη «Επίπεδα» και στο επιλογή Έκθεση προσέχουμε να είναι επιλεγμένο το «360Cities» καθώς και το «Δρόμοι».



Πάνω στο χάρτη εμφανίζεται μια κόκκινη σφαίρα με την ένδειξη «360». Κάντε κλικ πάνω στη σφαίρα. Στα παράθυρο που θα αναδυθεί κάντε κλικ πάνω στην εικόνα. Θα δείτε ότι η εικόνα θα μεγαλώσει. Κρατώντας πατημένο το αριστερό πλήκτρο του ποντικιού, σύρετε το ποντίκι δεξιά – αριστερά. Θα δείτε την τούμπα των Βασιλικών Τάφων της Βεργίνας και όλο το γύρω χώρο σε γωνία 360 μοιρών.



Στη συνέχεια κάντε κλικ κάτω από την «Αναζήτηση» στην επιλογή «Οδηγίες». Κάτω από τη φράση «Από» πληκτρολογήστε στα Ελληνικά τη φράση «Ελευθέριο – Κορδελιό» και κάτω από τη λέξη «Προς» τη λέξη «Βεργίνα». Πατήστε στη συνέχεια το μεγεθυντικό φακό.



Ακριβώς από κάτω το Google Earth μας δείχνει τη χιλιομετρική απόσταση, το χρόνο που θα χρειαστούμε για να μεταβούμε εκεί με αυτοκίνητο και την ακριβή περιγραφή της διαδρομής. Ταυτόχρονα, πάνω στο χάρτη θα δείτε με τονισμένη έντονη γραμμή το ακριβές δρομολόγιο που θα ακολουθήσουμε.

Κάνοντας διπλό κλικ πάνω στις επιμέρους διαδρομές ξεκινώντας από Ελευθέριο – Κορδελιό, παρακολουθήστε πάνω στο χάρτη το εικονικό ταξίδι προς τη Βεργίνα.

Ακολουθήστε ακριβώς τα ίδια βήματα και βρείτε τις διαδρομές «Ελευθερίου – Κορδελιού – Πέλλας» και «Βεργίνας – Πέλλας».

Με βάση τις παραπάνω οδηγίες και με το χάρτη που θα δείτε παρακάτω απαντήστε στις ακόλουθες ερωτήσεις:

1. Περιγράψτε τη γεωγραφική θέση της Βεργίνας και προσδιορίστε τη θέση της με βάση τα σημεία του ορίζοντα που βλέπετε στην εφαρμογή Google Earth. Καταγράψτε τις χιλιομετρικές αποστάσεις και τον απαιτούμενο χρόνο ταξιδιού «Ελευθερίου – Κορδελιού – Βεργίνας», «Ελευθερίου – Κορδελιού – Πέλλας» και «Βεργίνας – Πέλλας».

.....

.....

.....

.....

.....

.....

2. Καταγράψτε το ακριβές δρομολόγιο από το Ελευθέριο – Κορδελιό μέχρι τη Βεργίνα.

.....

.....

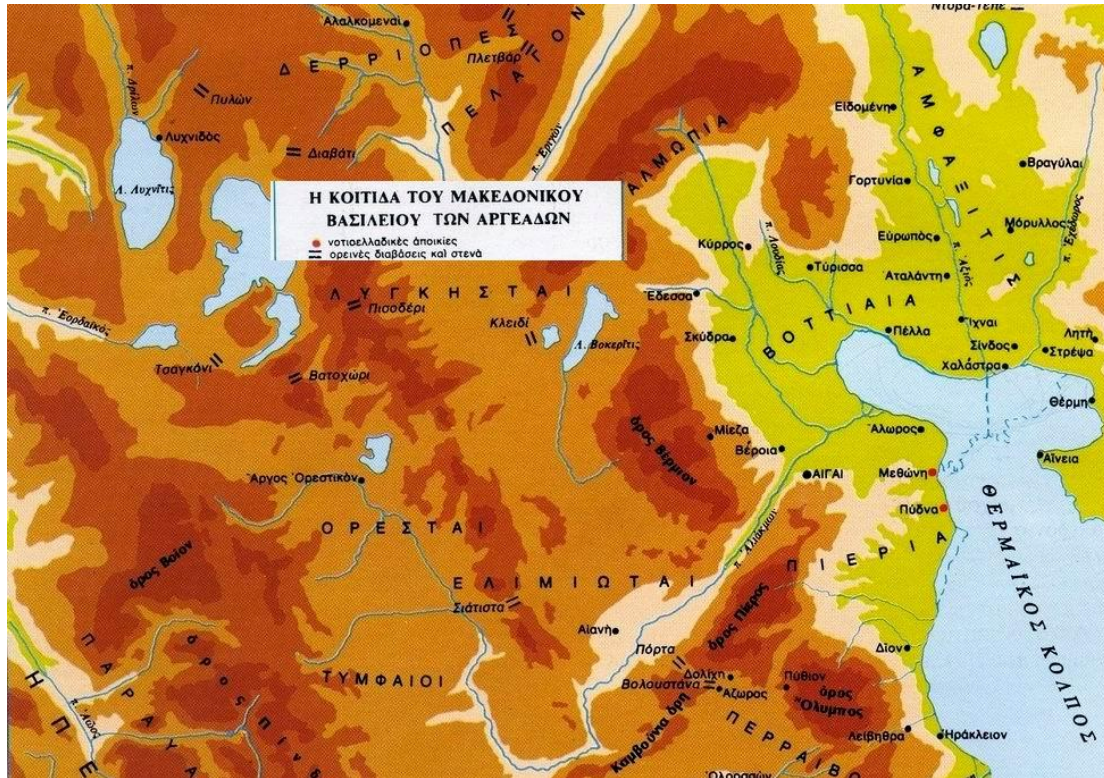
.....

.....

.....

.....

3. Παρατηρήστε το χάρτη που ακολουθεί. Είναι ο χάρτης της αρχαίας Μακεδονίας. Εντοπίστε τις Αιγές (σημερινή Βεργίνα) και την Πέλλα.



Πηγαίνετε στον παρακάτω δικτυακό τόπο (με πατημένο το πλήκτρο Ctrl του πληκτρολογίου και κάνοντας αριστερό κλικ με το ποντίκι):

http://www.dimos-veginas.gr/index.php?option=com_content&task=view&id=33&Itemid=48

Με βάση το χάρτη και τις πληροφορίες που θα βρείτε στο δικτυακό τόπο, γράψτε γιατί κατά τη γνώμη σας έγινε η μεταφορά της πρωτεύουσας της Μακεδονίας από τις Αιγές στην Πέλλα.

.....

.....

.....

.....

.....

.....

.....

.....