

## Δραστηριότητα 8

**Τάξη: Α**

**Μάθημα: Μαθηματικά**

**Ενότητα 6: Μονάδες και Δεκάδες-Γεωμετρικά Σχήματα-Χρόνος. 2η Περίοδος.**

**Μάθημα 41: Ο χρόνος.**

**Στόχοι:** Να διατάσσουν γεγονότα σύμφωνα με τη χρονική τους τέλεση με εκφράσεις και γεγονότα που αφορούν το χθες, το σήμερα, το αύριο, το πριν, το μετά, το γρήγορο, το αργό κτλ. Να τοποθετούν σε σειρά τις διαδοχικές φάσεις της εξέλιξης γεγονότων μικρής και μεγάλης χρονικής διάρκειας. Να εκτιμούν κατά προσέγγιση τη χρονική διάρκεια των γεγονότων. Να ασκηθούν οι μαθητές - τριες στη χρήση του λογισμικού Μαθηματικά Α' - Β' τάξης του Παιδαγωγικού Ινστιτούτου.

**Προηγούμενες γνώσεις:** Οι μαθητές - τριες έχουν εργαστεί ήδη στο βιβλίο τους και στο τετράδιο εργασιών στη συγκεκριμένη ενότητα.

Οι μαθητές/τριες γνωρίζουν τη χρήση του ηλεκτρολογίου.

Οι μαθητές/τριες έχουν εργασθεί ξανά με το on line λογισμικό Παιδαγωγικού Ινστιτούτου αλλά χρειάζονται ακόμη καθοδήγηση στη χρήση του όπως και εξάσκηση στη χρήση του ηλεκτρολογίου.

**Λογισμικό:** Λογισμικό Μαθηματικά Α' - Β' τάξης του Παιδαγωγικού Ινστιτούτου

**Απαιτούμενος χρόνος:** Μια διδακτική ώρα (45 λεπτά)

Οι μαθητές εργάζονται σε ομάδες των τριών (3) ατόμων

### Φύλλο Εργασίας

Ανοίξτε το φυλλομετρητή του υπολογιστή σας **Google Chrome** στην επιφάνεια του υπολογιστή σας με διπλό αριστερό κλικ



και όπως έχουμε μάθει αντιγράψτε και επικολλήστε τη διεύθυνση <http://ts.sch.gr/repo/online-packages/dim-mathimatika-a-b/d04/cd/maths/startup.swf> (**on line λογισμικό Παιδαγωγικού Ινστιτούτου**) και πατήστε enter στο ηλεκτρολόγιο

Εμφανίζεται η παρακάτω εικόνα. Πατήστε με αριστερό κλικ με το ποντίκι σας στην

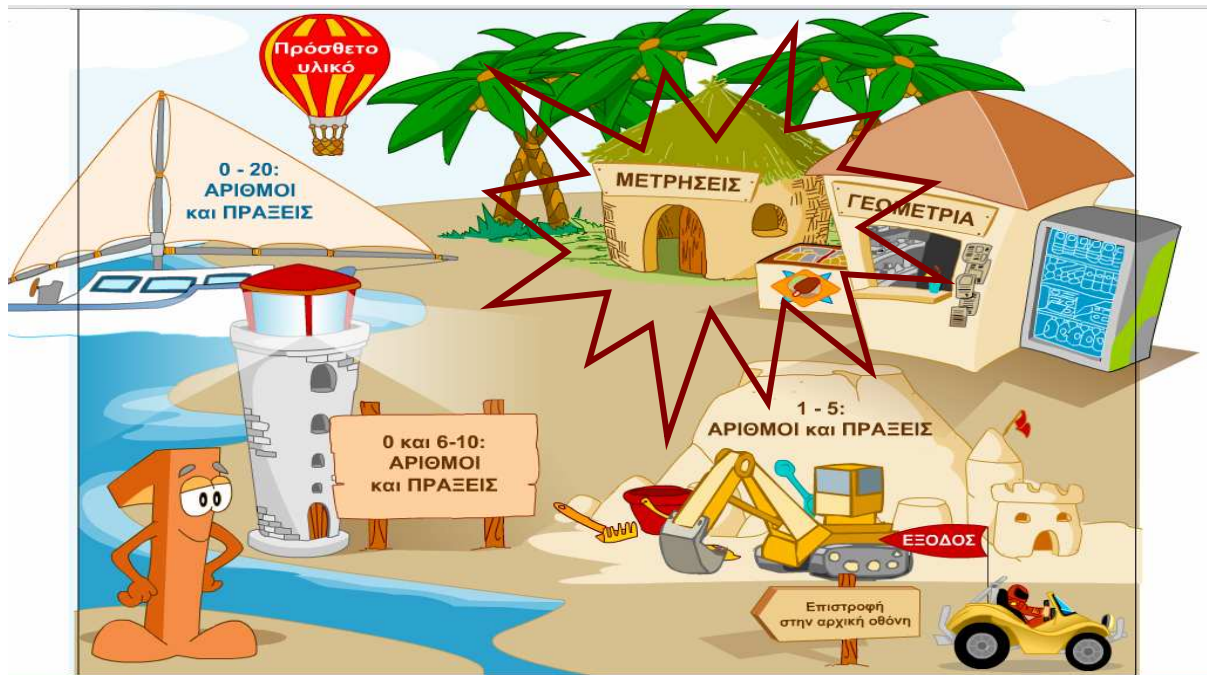


Στην παρακάτω εικόνα επιλέξτε την ταμπέλα που δείχνει το **κόκκινο βέλος**



Σε αυτήν την εικόνα διαλέξτε την επιλογή





Επιλέξτε το Χρόνο (χρονική διάταξη των εικόνων)



Βάλε τις εικόνες στη σωστή σειρά και πάτησε το "Εντάξει".

**ΜΕΤΡΗΣΕΙΣ**

Βάλε τις εικόνες στη σωστή σειρά και πάτησε το "Εντάξει".

1	2	3	4



✓ Εντάξει    Καθαρισμός


Πριν ξεκινήσετε δείτε το παράδειγμα πατώντας το εικονίδιο του πίνακα στο κάτω μέρος της οθόνης



**ΜΕΤΡΗΣΕΙΣ**


Βάλε τις εικόνες στη σωστή σειρά και πάτησε το "Εντάξει".

1	2	3	4

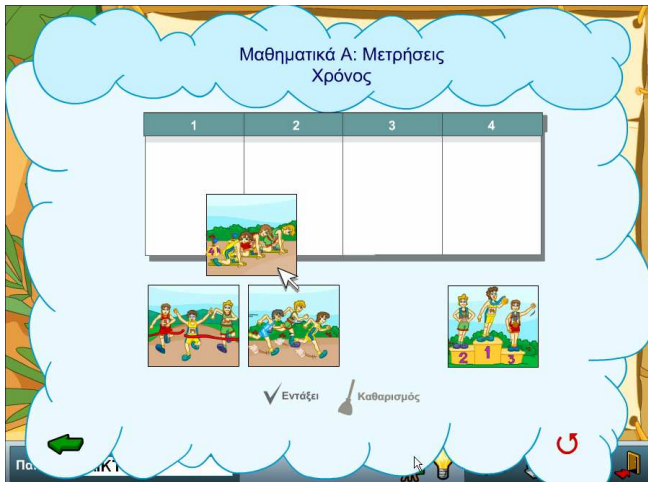


✓ Εντάξει    Καθαρισμός

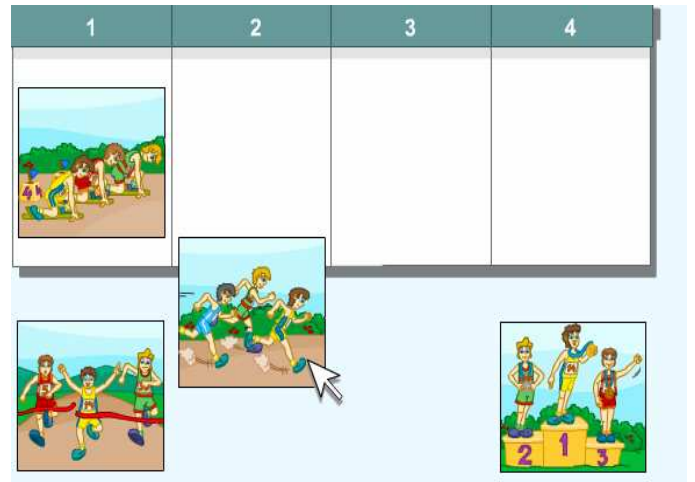
Παίκτης: ΠΑΙΚΤΗΣ



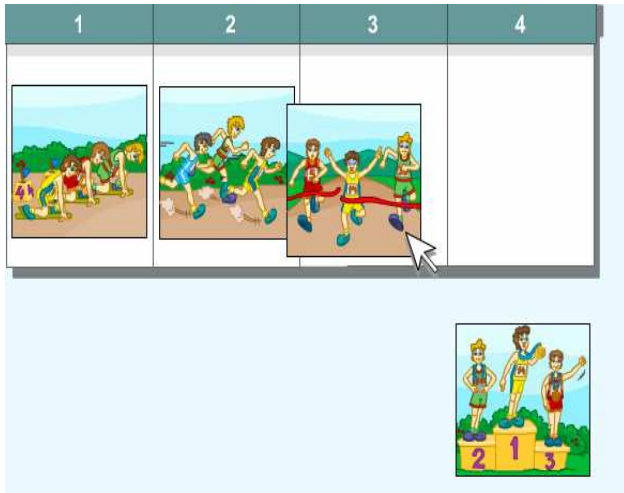
1<sup>η</sup> κίνηση



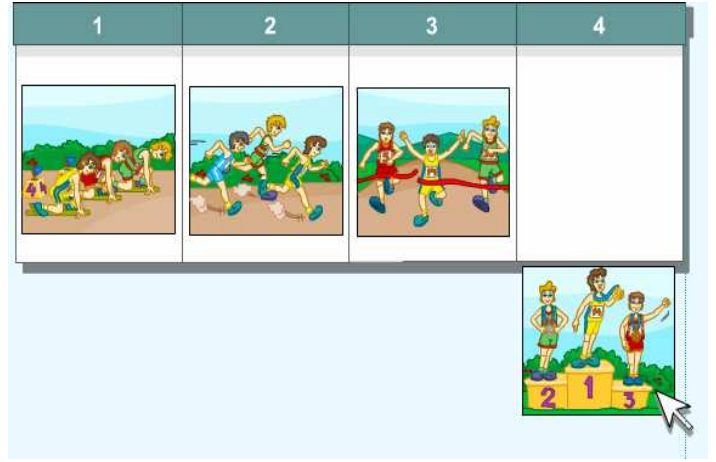
2<sup>η</sup> κίνηση



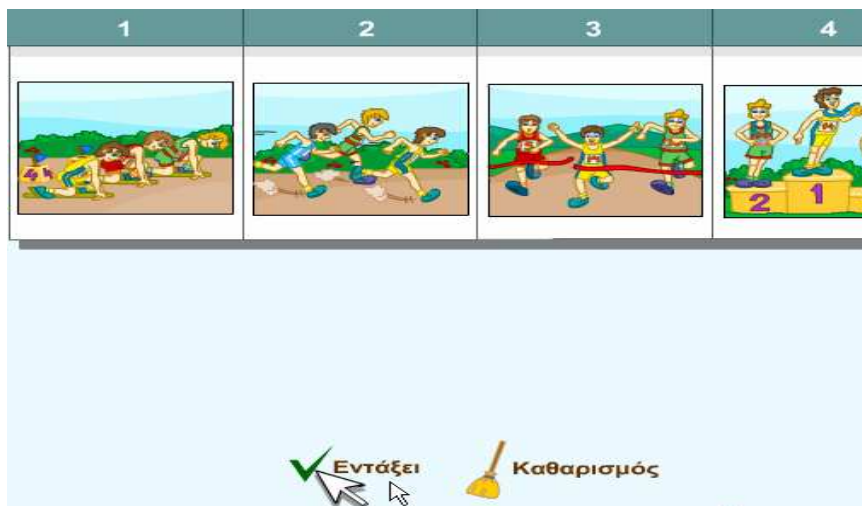
3<sup>η</sup> κίνηση



4<sup>η</sup> κίνηση



5<sup>η</sup> κίνηση



Για να επιστρέψετε στην άσκηση και να αρχίσετε να βάζετε τις εικόνες στη σωστή σειρά πατήστε με το ποντίκι σας το εικονίδιο



... και αν θέλετε να δείτε σε επανάληψη το παράδειγμα επιλέξτε το εικονίδιο



Μαθηματικά Α: Μετρήσεις Χρόνος

1	2	3	4

✓ Εντάξει    Καθαρισμός

Οι παρακάτω επιλογές θα σας βοηθήσουν αφού τελειώσετε με την άσκηση!

- ΛΥΣΗ ΑΣΚΗΣΗΣ
- ΕΠΙΣΤΡΟΦΗ
- ΕΚΤΥΠΩΣΗ
- ΑΡΧΙΚΗ ΣΕΛΙΔΑ
- ΕΞΟΔΟΣ