

15^η Δραστηριότητα

Τάξη: Γ΄

Μάθημα: Μαθηματικά

Ενότητα 1 . Κεφάλαιο 3 : Γεωμετρικά σχήματα και στερεά σώματα.

Στόχοι : Να θυμηθούν τα βασικά χαρακτηριστικά των σχημάτων και των σωμάτων, να τα ξεχωρίζουν με ευχέρεια και να επεκτείνουν τις γνώσεις τους.

Χρήση Λογισμικού: Επεξεργαστής κειμένου Word.

Προαπαιτούμενες γνώσεις: Οι μαθητές/τριες είναι εξοικειωμένοι/ες με τη χρήση του συγκεκριμένου λογισμικού. Πάντα όμως καθοδηγούμε τονίζοντας μερικά βασικά σημεία της χρήσης του.

Απαιτούμενος χρόνος: 10΄ λεπτά.











Οι μαθητές/τριες είναι χωρισμένοι σε ομάδες των τριών ατόμων.

Το παρακάτω φύλλο εργασίας είναι αποθηκευμένο σε κάθε υπολογιστή στην επιφάνεια εργασίας.. Οι μαθητές καλούνται να το ανοίξουν και να ακολουθήσουν τις οδηγίες.

ΦΥΛΛΟ ΕΡΓΑΣΙΑΣ

- Γράψτε κάτω από κάθε γεωμετρικό στερεό και κάθε γεωμετρικό σχήμα την ονομασία του.

Ονομάστε τα παρακάτω γεωμετρικά σχήματα και γεωμετρικά στερεά:

Μόλις τελειώσετε, αποθηκεύστε το φύλλο εργασίας εκ νέου (αποθήκευση ως) με το όνομα: **Γεωμετρικά στερεά και σχήματα_X** όπου **X** το όνομα της ομάδας σας και παρουσιάστε τα στην ολομέλεια.