

ΔΡΑΣΤΗΡΙΟΤΗΤΑ 11

Τάξη ΣΤ΄

Μάθημα : Ιστορία

Κεφάλαιο : 27 Η ΠΟΛΙΟΡΚΙΑ ΚΑΙ Η ΕΞΟΔΟΣ ΤΟΥ ΜΕΣΟΛΟΓΓΙΟΥ

Στόχος : Να παρατηρήσουν οι μαθητές και να καταγράψουν τη γεωγραφική θέση του Μεσολογγίου . Να κατανοήσουν τις δυσκολίες ανεφοδιασμού και το λόγο που οι αγωνιστές οδηγήθηκαν στην έξοδο .




Λογισμικό: Google Earth , word

Προηγούμενες γνώσεις: Οι μαθητές/ μαθήτριες γνωρίζουν από προηγούμενα μαθήματα την κατάσταση που επικρατεί στην περιοχή εκείνη την εποχή και έχουν εργασθεί ξανά με τα λογισμικά .

Απαιτούμενος χρόνος: 30 λεπτά

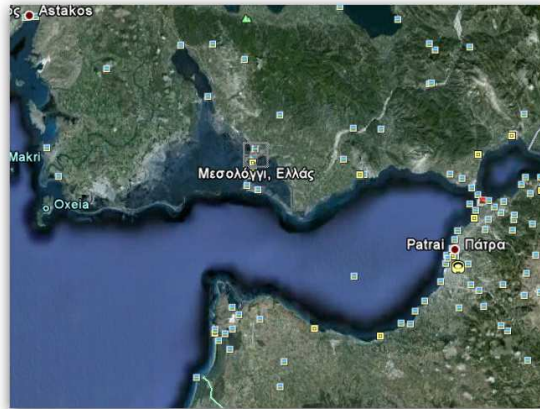
Οι μαθητές εργάζονται σε ομάδες των τριών (3) ατόμων

Φύλλο Εργασίας

1. Εκκινήστε το λογισμικό Google Earth  από το αντίστοιχο εικονίδιο της επιφάνειας εργασίας. Στην επιφάνεια του Google Earth πληκτρολογήστε Μεσολόγγι  και πατήστε το κουμπί 

2.Εντοπίστε στο χάρτη την πόλη του και τη λιμνοθάλασσα του Μεσολογγίου .

3. Παρατηρήστε το χάρτη και συζητήστε με τους συμμαθητές της ομάδας σας για τη γεωγραφική θέση της πόλης του Μεσολογγίου.



4. Ανοίξτε ένα φύλλο word και γράψτε τις παρατηρήσεις σας για τη γεωγραφική θέση του Μεσολογγίου .

Η θέση αυτή επηρέασε το αποτέλεσμα του αγώνα ;

5.Αποθήκευσε το έγγραφο στην επιφάνεια εργασίας του υπολογιστή σου.